



## Guía de Trabajo, HISTORISA, 2° BÁSICO “ELEMENTOS DE LOS PAISAJES” Primer Semestre 2020

Nombre : \_\_\_\_\_  
Curso : \_\_\_\_\_  
Fecha : \_\_\_\_/\_\_\_\_/\_\_\_\_

**Objetivo:** Clasificar y caracterizar algunos paisajes de Chile según su ubicación en la zona norte, centro y sur del país, observando imágenes, utilizando diversas fuentes y un vocabulario geográfico adecuado (océano, río, cordillera de los Andes y de la Costa, desierto, valle, costa, volcán, archipiélago, isla, fiordo, lago, ciudad y pueblo, entre otros) (OA 8)

### Instrucciones:

- **Querido estudiante:** Esta guía de trabajo te permitirá conocer los distintos elementos que podemos encontrar en el paisaje.
- **Lee, comenta y desarrolla las actividades planteadas.**
- **Recuerda que debes guardar este material y presentarlo cuando nos volvamos a encontrar.**

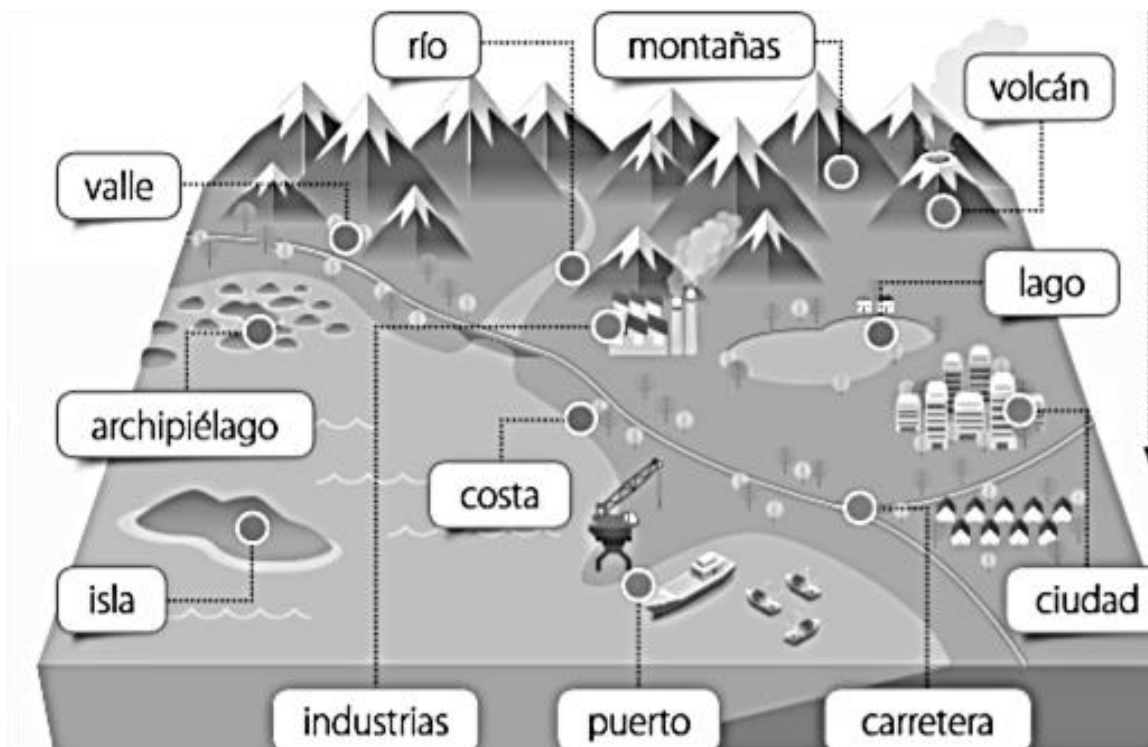
## Elementos de los paisajes

El planeta Tierra tiene distintos paisajes, dependiendo del lugar donde te encuentres, encontrarás distintos elementos que los conforman.

**Elementos naturales:** son parte de la naturaleza.

**Elementos culturales:** son creados por el ser humano, es decir: las construcciones realizadas por las personas como puentes, caminos, edificios, casas, entre otros.

Actividad 1. En la siguiente imagen, pinta de color verde los nombres de los elementos naturales y con amarillo los nombres de los elementos culturales.





Observa los siguientes paisajes y reconoce los elementos naturales y culturales de cada uno.



Existen paisajes donde la presencia de elementos naturales es mayor.

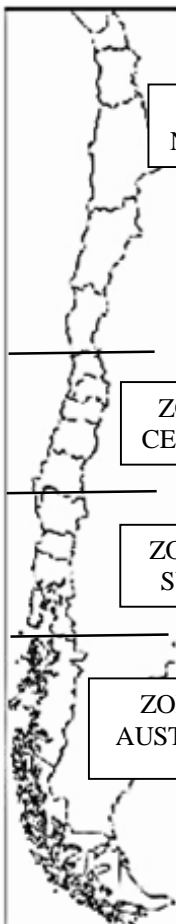


En otros paisajes conviven elementos naturales y culturales.

Dentro de los elementos naturales de los paisajes, podemos encontrar:

- **Relieve:** son formas que tiene la superficie de la Tierra.
- **Clima:** son las condiciones atmosféricas de un lugar (temperatura, humedad, cantidad de lluvia).
- **Vegetación:** son las especies vegetales de un lugar.

## ¿Cómo son los paisajes de las zonas naturales de Chile?



Debido a su extensión, en Chile existe una gran variedad de paisajes. Estos se agrupan en cuatro grandes zonas. En ellas se combinan elementos naturales y culturales, los que dan características particulares a cada una.

En el siguiente mapa de Chile...

- Pinta de rojo la región Metropolitana.
- ¿Cuál es la ciudad dónde tú vives? \_\_\_\_\_
- Santiago es la capital de Chile y justamente tú vives en ella, es decir, vives en la capital de nuestro país.
- Mirando el mapa de Chile ¿En qué zona de Chile vives?  
\_\_\_\_\_



## Paisajes zona norte

Se extiende desde el límite norte de Chile hasta el río Aconcagua. Es una zona extensa y se divide en norte grande y norte chico.  
Para ubicarte, mira el mapa de la página anterior y pinta la zona norte de color amarillo.



### ¿Cómo es el paisaje de la zona norte?

El paisaje de esta zona es desértico, debido a las pocas lluvias y las altas temperaturas del sol. La mayoría de la población de esta zona vive en la costa. La cordillera de la costa es alta y cae al mar.  
Mira la imagen.

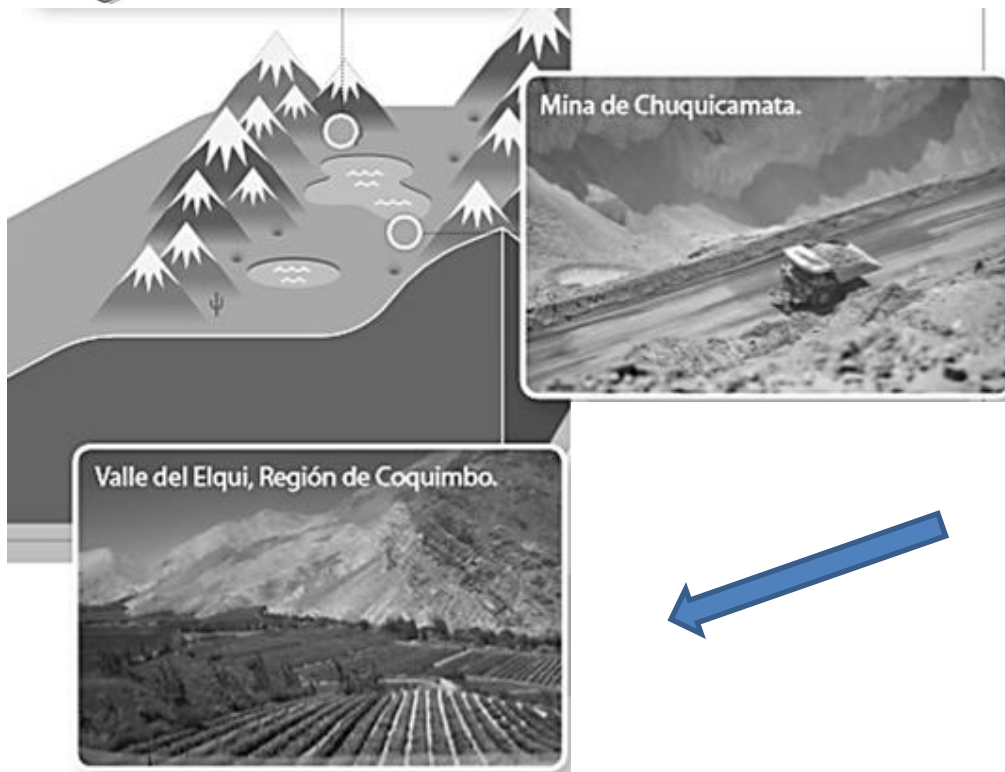
Los productos del mar son uno de los principales recursos de esta zona.



La vegetación (plantas) se adaptan a las pocas lluvias de esta zona.

La Cordillera de los Andes en la zona norte, en algunos lugares forma una planicie (se aplanan), llamándose **Altiplano**. En esta zona viven personas, animales y plantas adaptándose al frío y la sequedad de esta zona





La industria minera se ha desarrollado por largo tiempo en el desierto chileno.

Terminando la zona norte y empezando a llegar a la zona centro empiezan a aparecer los valles y desaparece el desierto

**Reponde las siguientes preguntas de la zona norte de Chile**

1) ¿Cómo se divide la zona norte? \_\_\_\_\_ y \_\_\_\_\_

2) ¿A qué se debe que la zona norte tenga un paisaje desértico? \_\_\_\_\_

---



---

3) Menciona las dos actividades económicas principales de la zona.

\_\_\_\_\_ y \_\_\_\_\_

4) ¿A qué se llama Altiplano? \_\_\_\_\_

---



---

5) ¿Escribe dos desafíos que deben enfrentar las personas que viven en estos paisajes?

---



---



## Paisajes zona centro

En esta zona las temperaturas son moderadas, no hace ni mucho frío ni mucho calor, lloviendo principalmente en invierno. Su clima es templado.

Vuelve al mapa de Chile de la página 2, busca la zona centro y píntala de color rojo. Recuerda que tú vives en esta zona.

Los puertos de las ciudades permiten el comercio con otros países y entregan una gran cantidad de trabajo a las personas de la zona.

La mayor cantidad de actividad económica de todo nuestro país se encuentra en esta zona central.

Las personas desarrollan distintos tipos de trabajo como: comercio, industrias, servicios (colegios, hospitales, telefonía, etc.), entre otros.



La agricultura (cultivo de plantas comestibles) se ve favorecida por el clima templado y fertilidad de estos valles.



La Cordillera de los Andes tiene altas cumbres y de ella nacen ríos que desembocan (llegan) en el mar, nuestro Océano Pacífico. A medida que se avanza al sur la vegetación va aumentando.



Existen grandes ciudades en la zona centro de nuestro país, donde vive gran parte de la población de Chile. En Santiago se encuentra el Palacio de la Moneda, que es lugar donde el o la Presidente o Presidenta gobierna nuestro país.

Algunas ciudades son: Valparaíso, Concepción y Santiago, donde tú vives, entre otras más.



Responde las siguientes preguntas.

1) ¿Cómo es el clima de esta zona?, Explica \_\_\_\_\_

\_\_\_\_\_  
 \_\_\_\_\_

2) ¿A qué actividades económicas se dedican las personas en esta zona? \_\_\_\_\_

\_\_\_\_\_

3) ¿Qué es la agricultura? \_\_\_\_\_

\_\_\_\_\_

4) ¿Cómo es la Cordillera de los Andes de en esta zona? \_\_\_\_\_

\_\_\_\_\_

5) ¿Dónde se encuentra el Palacio de la Moneda? \_\_\_\_\_,

¿Quién trabaja ahí? \_\_\_\_\_.

6) Nombres tres ciudades de la zona central de Chile: \_\_\_\_\_,

\_\_\_\_\_, \_\_\_\_\_.



## Paisajes zona sur

La **lluvia** y la **humedad** son características de esta zona. Mientras más avanzas hacia el sur, las temperaturas son más bajas y aumentan las lluvias. La gran cantidad de lluvias, permite la presencia de mucha vegetación.

Existen grandes ríos y lagos en toda la zona sur. La costa es ancha, pero se va haciendo más angosta hacia el sur.

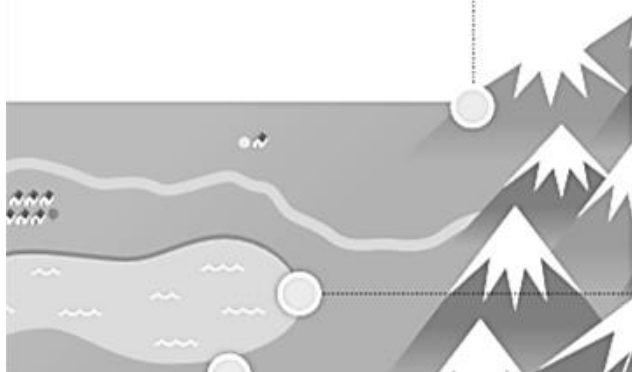


Temuco es una de las ciudades más pobladas de la zona sur y tiene gran importancia para el comercio, la economía y la cultura de la región.

Acá lo más trabajado es la actividad maderera.



La cordillera de los Andes disminuye su altura y sus cumbres son **volcanes**. La gran cantidad de lluvia permite una abundante vegetación.







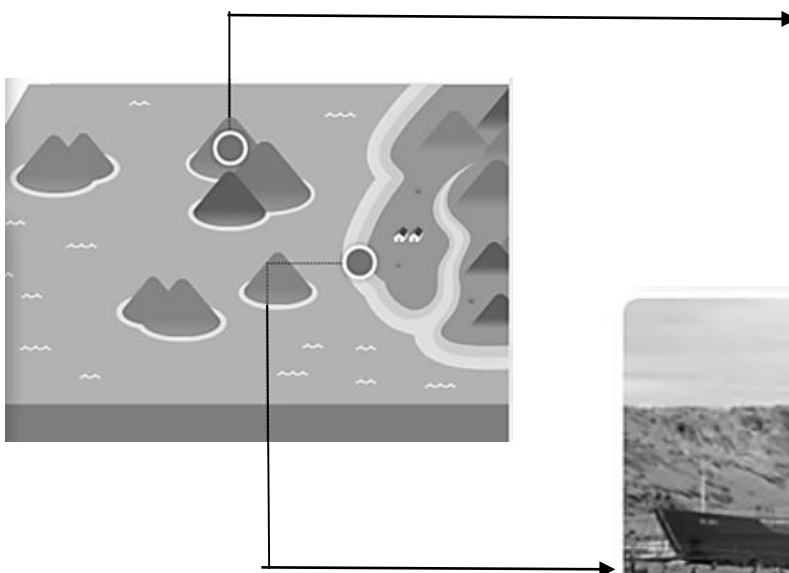
La actividad forestal, la agricultura y la ganadería son las actividades más importantes de la zona sur.



### Paisajes zona austral

En esta zona las temperaturas son muy bajas, a veces cae nieve, la que cubre varios paisajes presentes en ella.

En la zona austral la Cordillera de la costa se hunde en el mar, formando **islas** y **archipiélagos**. Aparecen glaciares y extensas zonas cubiertas de hielo







La **pesca** se practica en los canales y ríos que se extienden en la zona



Lanchas en Puerto Aysén.



Huemúl hembra en las Torres del Paine.

Existen grandes ríos, con abundante vegetación y especies animales. Aparece la **Patagonia**, una zona plana cubierta de pastos duros y vientos muy fuertes.

La crianza de ovejas es muy importante en esta zona.

## Isla de Rapa Nui

La isla Rapa Nui se encuentra en pleno océano Pacífico, tiene un **paisaje tropical**. Existen altas temperaturas y gran cantidad de precipitaciones.

Los paisajes de la isla se han visto afectados por el aumento de la población, el cambio climático y la excesiva explotación de sus recursos.

Los **Moais**, son el símbolo de Isla de Pascua reconocido en todo el mundo.



Playa Anakena en la Isla Rapa Nui.



Turismo a los pies del volcán Rano Raraku.



Botes de pesca en Hanga Roa, capital de Rapa Nui.



Responde las siguientes preguntas.

1) ¿Cómo es el clima en la zona sur? \_\_\_\_\_

\_\_\_\_\_

2) ¿Qué pasa con la Cordillera de los Andes en la zona sur? \_\_\_\_\_

\_\_\_\_\_

3) ¿Cuáles son las actividades económicas de la zona sur? \_\_\_\_\_

\_\_\_\_\_

4) ¿Cómo es el clima en la zona austral? \_\_\_\_\_

\_\_\_\_\_

5) ¿Qué pasa con la Cordillera de los Andes en la zona Austral? \_\_\_\_\_

\_\_\_\_\_

6) ¿Qué es la Patagonia? y ¿Dónde se encuentra? \_\_\_\_\_

\_\_\_\_\_

7) ¿Dónde se ubica Isla de Pascua? y ¿Cuál es su clima? \_\_\_\_\_

\_\_\_\_\_

8) ¿Qué son los Moais? \_\_\_\_\_

\_\_\_\_\_

